

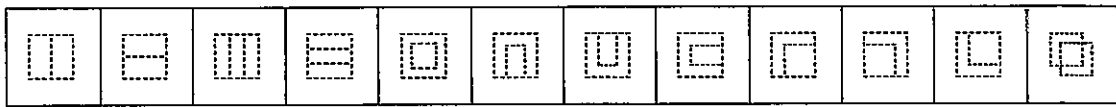
國立臺灣師範大學 109 學年度碩士班招生考試試題

科目：文字學

適用系所：國文學系

注意：1.本試題共 2 頁，請依序在答案卷上作答，並標明題號，不必抄題。2.答案必須寫在指定作答區內，否則依規定扣分。

- 一、漢字構形解說，除了傳統的六書之外，尚有二書、三書、四書、五書、七書……之說。進入電腦世界的漢字，在 Unicode 3.0 之後出現了十二種組合字符：



































試問：這些構形理論在分析漢字時的優缺點為何？請舉例並進行論述。

(17 分)

- 二、「寶」字從甲骨以降，形體多變，且隱含著眾多的文字發展樣態。請依文字學理分析下表所呈現的形體意義。(17 分)

國立臺灣師範大學 109 學年度碩士班招生考試試題

 手3330(甲)	 手3741(甲)	 師友2.24(甲)	 後2.18.3(甲)	 小子省卣(金) 商代晚期
 宰甫卣(金) 商代晚期	 卣小子卣(金) 西周早期	 陳伯震簋(金) 西周早期	 禽簋(金) 西周早期	 罍簋(金) 西周早期
 轉作寶樹盤(金) 西周早期	 楚留母方鼎(金) 西周早期	 量侯簋(金) 西周早期	 夷姪鬲(金) 西周中期	 羸氏鼎(金) 西周中期
 楚公蒙鐘(金) 西周中期偏晚	 無另鼎(金) 西周晚期	 周窆卣(金) 西周晚期	 叔賈簋(金) 西周晚期	 算鼎(金) 西周
 番伯者若盤(金) 春秋早期	 番伯者若卣(金) 春秋早期	 齊姜矩盤(金) 春秋晚期	 叔之伯鐘(金) 春秋晚期	 梁書缶(金) 春秋
 殷仲裘盤(金) 春秋	 包2.221(楚)	 望1.14(楚)	 望1.14(楚)	 包2.226(楚)
 說文古文	 說文·一部			

資料來源：中研院「小學堂」網站。瀏覽日期：2020年1月。

三、請寫出「天、起、雨、日、生」五字的上古聲類與韻部。(17分)

四、請用國際音標寫出「瓦、煙、資、向、唐」五字的國語讀音，並分析它們的音節結構。(16分)

五、請問何謂「省聲字」？請寫出「省聲字」的定義，並舉一例在下加以說明。

(13分)

另外，下面有十個「省聲字」，請寫出每一個「省聲字」中的聲符：(20分)

(一)金 (二)炭 (三)船 (四)軍 (五)融

(六)守 (七)春 (八)秋 (九)雷 (十)軍