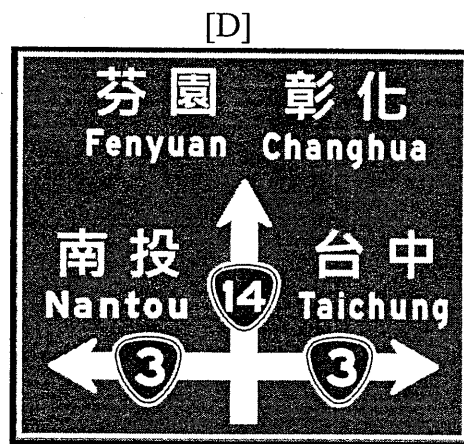
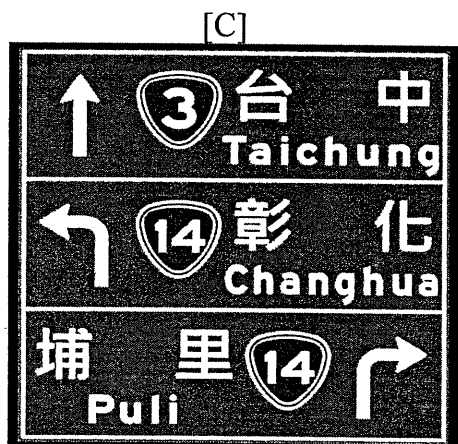
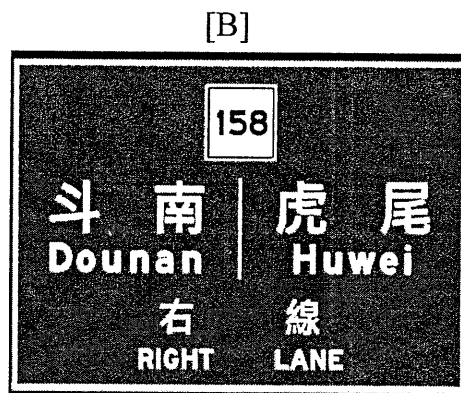
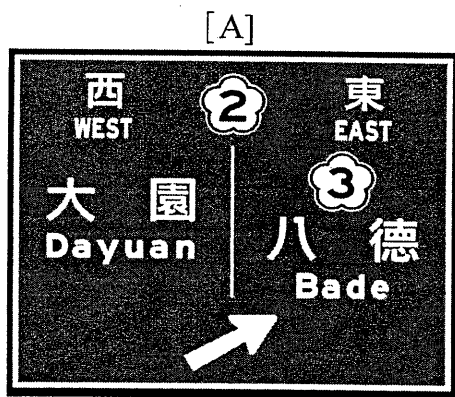


※ 考生請注意：本試題不可使用計算機。 請於答案卷(卡)作答，於本試題紙上作答者，不予計分。

一、 試說明在何種情況下必須進行交通衝擊分析？若需要進行交通衝擊分析，試說明進行之步驟。(20分)

二、 針對以下標誌牌面 ([A]、[B]為高速公路標誌牌面，[C]、[D]為省道標誌牌面) 說明該標誌牌面之意義與設置之時機或位置。(20分)



三、 所謂高鐵南延政策就是將高鐵路線從高雄新左營站延伸至屏東，試從運輸工程之角度探討高鐵南延屏東應考慮之因素。(20分)

四、 試說明欲進行一機場位址之選擇必須包含那些步驟與項目？(20分)

五、 港灣之固定導航設施有那些？試說明其特性。(20分)