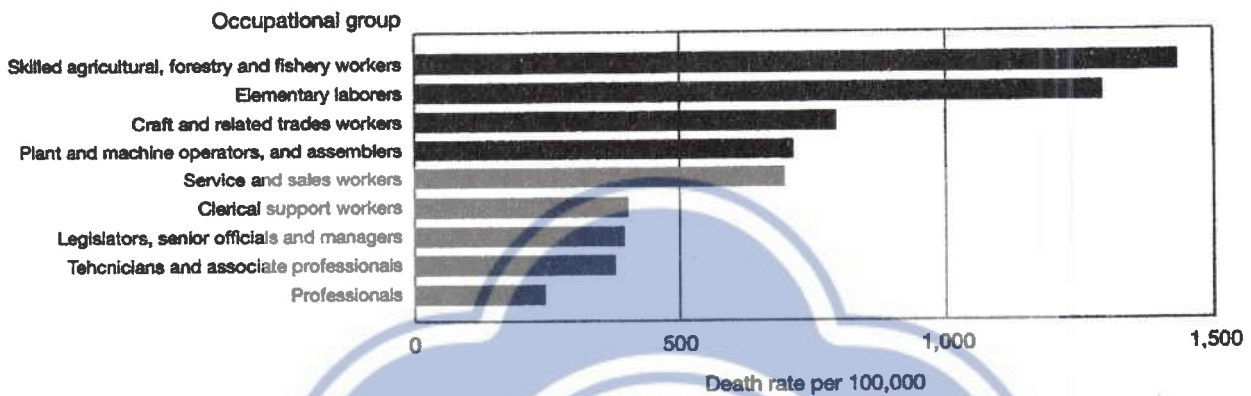


考試科目	社會學	系所別	社會學系	考試時間	2月3日(六)第一節
------	-----	-----	------	------	------------

一、以下兩圖 (Figure 1 與 Figure 2) 是分別在 2007 年以及 2011-2013 年對不同屬性的台灣人民所做的統計。對照比較兩圖，予以描述說明，並對其中的現象提出具有社會學意義的解釋。(20 分)

Figure 1: Death rates of men aged 25-64 in Taiwan by occupational group, 2011-2013



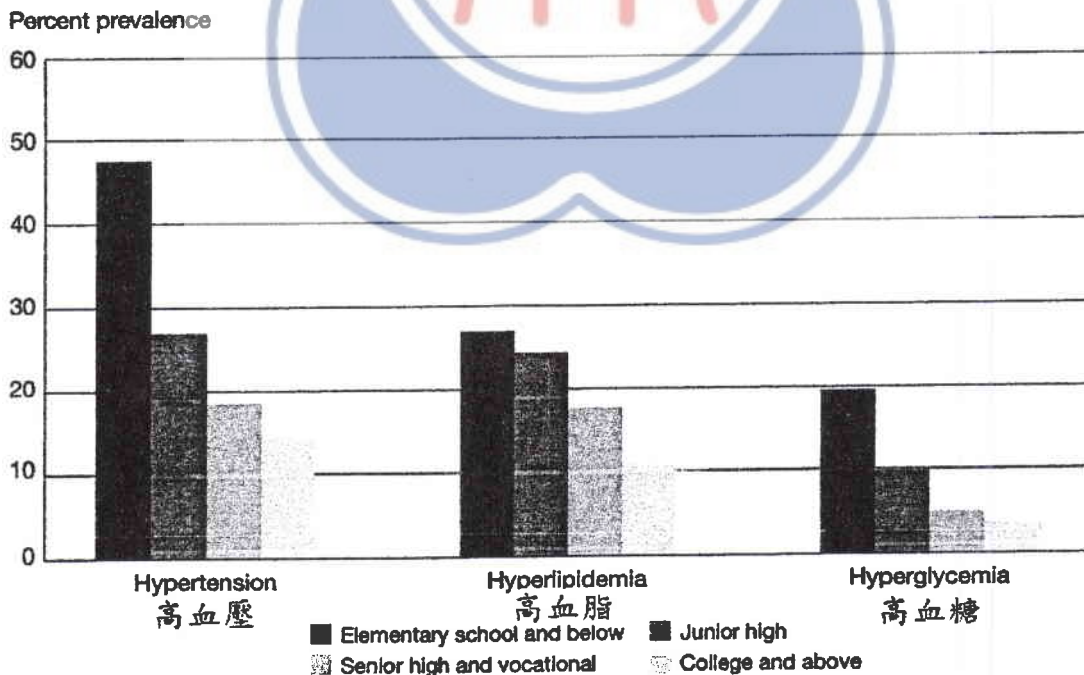
Sources:

1. Population and Housing Census, 2010 (12).
2. Death Reporting System, Ministry of Health and Welfare, 2011-2013 (10).

Notes:

- a) Occupation groups are based on the Standard Occupational Classification System of the Republic of China (Rev.6).
- b) Soldiers are included in 'Service and sales workers'.

Figure 2: Prevalence of hypertension, hyperlipidemia, hyperglycemia by level of education, Taiwan 2007



Source: Taiwanese Survey on Prevalence of Hypertension, Hyperglycemia and Hyperlipidemia, 2007 (29).

備註

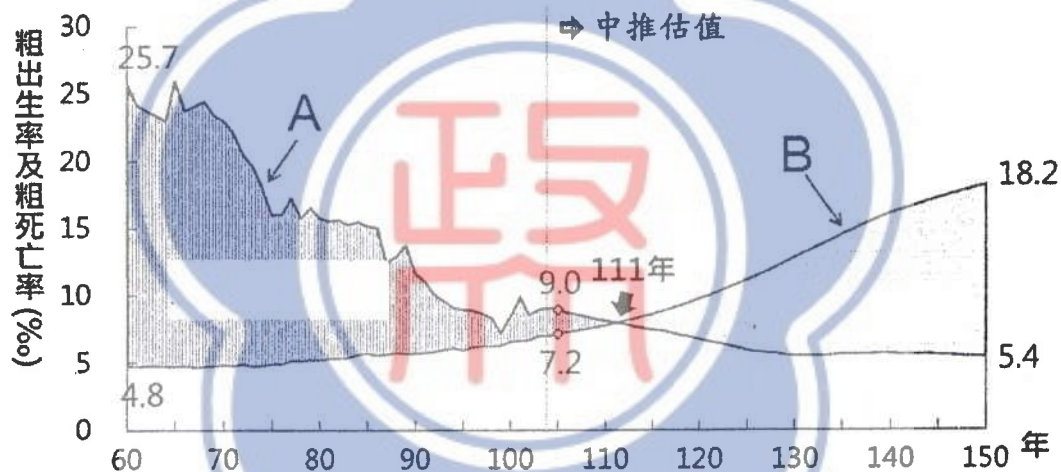
- 一、作答於試題上者，不予計分。
- 二、試題請隨卷繳交。

考試科目	社會學	系所別	社會學系	考試時間	2月3日(六)第一節
------	-----	-----	------	------	------------

二、以社會學相關概念闡述「自動化」(automation)在組織、勞動與經濟領域的意義。(15分)

三、下圖為國家發展委員會對台灣人口變遷所做的統計與推估圖，參考圖式回答以下問題。(15分)

1. 定義 A 與 B 兩條線，並說明其意義。(6分)
2. 預期將在民國 111 年以後發生的現象，人口學者對此有何論點？如何解釋？(9分)



說明：本圖為中推估結果。

資料來源：國家發展委員會「中華民國人口推估（105至150年）」，105年8月。

四、解釋名詞（16分）

1. 想像的共同體 (imagined community)
2. 異化 (alienation)
3. 文化工業 (cultural industry) (法蘭克福學派)
4. 人口轉型 (demographic transition)

備註

- 一、作答於試題上者，不予計分。
- 二、試題請隨卷繳交。

考試科目	社會學	系所別	社會學系	考試時間	2月3日(六)第一節
------	-----	-----	------	------	------------

五、請閱讀以下三篇短文後，回答相關問題

(一)

男女薪資差距 14% 女生得多作 52 天才能追平

2017-02-25 19:47

〔即時新聞／綜合報導〕現代社會講求男女平等，但有時這樣的平等卻無法落實在所有面向上，行政院主計總處昨天公布的統計就顯示，去年我國女性平均薪資是男性的 86%，女性若要達到和男生相同的年總薪資，需要比男生多工作 52 天。

行政院主計總處 24 日公布，去年受僱員工薪資是 4 萬 8790 元，男性薪資為 5 萬 2824 元，女性則是 4 萬 4168 元。勞動部指出，換算後去年台灣女性平均時薪是 264.6 元，是男性 (307.7 元) 的 86%，兩性薪資差距為 14%。也就是說，如果男女要達到相同年總薪資，女生必須比男生多工作 52 天。

在過去 10 年來，台灣兩性平均時薪差距從 2006 年的 18.8%，下降到去年的 14%。女性需增加工作天數從 69 天減少到 52 天，共減少了 17 個工作天數。勞動部指出，歷年來台灣兩性平均薪資差距就比美國、日本、韓國等國小，去年我國差距是 14%，低於日本的 32.8%、韓國的 31.8% 和美國的 18.1%。

(資料來源：自由時報新聞網，<http://news.ltn.com.tw/news/life/breakingnews/1986554>，引用日期：2017/12/30)

(二)

女人真辛苦 做家事故小孩都是男性 3 倍

2017 年 5 月 25 日 下午 3:52

(中央社記者陳政偉台北 25 日電) 女性辛苦了！根據主計總處最新「婦女婚育與就業調查」，15 歲以上的有偶女性每天無酬照顧時間為 3.81 小時，丈夫僅 1.13 小時，女性做家事與照顧子女都是另一半的 3 倍以上。

之前在台灣播映的日劇《月薪嬌妻》探討婚後家事勞務分工問題，描寫到家庭主婦的與職業婦女的困境，讓台灣許多女性對自身角色的辛苦心有戚戚焉。

主計總處公布 105 年 10 月的「婦女婚育與就業調查」，15 歲以上女性平均每天無酬照顧時間共計 2.64 小時，以「做家事」花費 1.66 小時最長，「照顧子女」占 0.62 小時居次。

而無酬照顧時間，根據主計總處解釋，包含照顧子女、老人、其他家人、做家事與志工服務時間。就實際從事無酬照顧工作者觀察，則以「照顧子女」者每日需花費 3.30 小時最長，「做家事」者每日花費時間也達 1.79 小時。

若是觀察 15 歲以上有偶(含同居)女性的平均每日無酬照顧時間為 3.81 小時，其丈夫(含同居人)則為 1.13 小時。但其中有偶女性有「做家事」花費 2.19 時，為丈夫 0.62 小時的約 3.5 倍，「照顧子女」花費 1.11 小時為丈夫 0.33 小時的 3.36 倍。

15 至 49 歲現有子女女性，在近 3 年出生，最小孩子在未滿 3 足歲前是以「自己或丈夫」親自照顧占 47.33% 為主，但遠低於其理想比率 78.79%，至於需將子女委外托育者約占 1 成 3，其平均每月托育費用為 1 萬 6007 元。

備註

- 一、作答於試題上者，不予計分。
- 二、試題請隨卷繳交。

考試科目	社會學	系所別	社會學系	考試時間	2月3日(六)第一節
------	-----	-----	------	------	------------

近6年出生的最小孩子在3至6足歲前，是以送「私立幼兒園或托嬰中心」托育占39.2%為主，但高於其理想比率24.34%，需將子女委外托育婦女約占6成，其平均每月托育費用為8719元。

(資料來源：雅虎奇摩新聞網，

<https://tw.news.yahoo.com/%E5%A5%B3%E4%BA%BA%E7%9C%9F%E8%BE%9B>

<https://tw.news.yahoo.com/%E8%8B%A6-%E5%81%9A%E5%AE%B6%E4%BA%8B%E9%A1%A7%E5%B0%8F%E5%AD>

<https://tw.news.yahoo.com/%A9%E9%83%BD%E6%98%AF%E7%94%B7%E6%80%A7%E5%80%8D-075211044.html>，

引用日期：2017/05/25)

(三)

2015年我國25~64歲女性人口已逾8成具有高中職以上教育程度，連續第5年高於男性(74.5%)，兩性差異由20年前男性高於女性9個百分點逐年縮小，自2011年逆轉為女性高於男性後，差距持續擴大，2015年女性已較男性高出6.6個百分點，性別落差明顯反轉。觀察我國25~34歲年齡組具高中職以上教育程度比率的性別差異，1998年女性首次超越男性，2006年差異達5.3個百分點，其後各年介於3~5個百分點間波動，主因女性該項比率於2006年起已超過9成，男性亦處高水準，性別差異隨時間推移已難有大幅變化。至於55~64歲年齡組，近20年間變動極大，1995~2006年間男性具高中職以上教育程度之比率高出女性約14~16個百分點，2011年差距降至10.3個百分點，2015年更轉為女性高於男性(3.1個百分點)，女性具高中職以上教育程度之比率高於男性之現象已遍及各年齡層，對就業、婚姻、家庭各層面產生的影響，值得持續關注。

(資料來源：2016年國民幸福指數年報，頁67-70；<https://ebook.dgbas.gov.tw/public/Data/6922114311GB4G0IN.pdf>，引用日期：2018/01/10)

1. 請從社會學的觀點，提出兩點形成台灣社會中男女平均薪資差異存在的原因並解釋之。(6分)
2. 請討論「教育成就」與「社會階層化與社會流動」在現代社會中的關連性，以及此關連性是否可以有效解釋男女平均薪資差異的形成。(8分)
3. 社會學中有不同的理論觀點試圖解釋家庭組織的運作與分工模式。請從「功能論」、「衝突論」、「新家庭經濟論」、「資源交換論」與「符號互動論」等理論中，選擇兩個觀點(你必須先介紹你要應用的理論觀點)分別解釋台灣社會中普遍存在著女性擔任主要家務勞動者以及家務分工的性別差異等的社會現象，並進行觀點的比較。(20分)

備註

- 一、作答於試題上者，不予計分。
- 二、試題請隨卷繳交。