

逢甲大學100學年度碩士班招生考試試題 編號：057 科目代碼：226

科目	中國史(含藝術文化史)	適用系所	歷史與文物研究所	時間	100分鐘
----	-------------	------	----------	----	-------

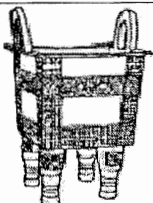
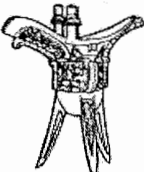
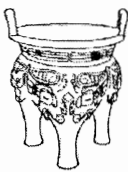



※請務必在答案卷作答區內作答。

一、申論題

1. 中國古代政權為了維持政府運作，向人民徵稅。請以漢代的田賦、丁口稅，魏晉至隋唐初的租、庸、調法、唐中葉的兩稅法、明代中葉的一條鞭法為例，說明其施行或改革的時代背景與稅制內涵。(30分)
2. 就你所認識的中國古代物質文化(如青銅器、玉器或金銀器)研究中，舉出一位學者，就其論點簡要說明，並就其研究方法之優缺點加以論述。(20分)

二、簡答題

1. 中國自春秋、戰國時代開始冶煉鐵礦，製造工具，請簡述鐵的使用對中國軍事、政治、社會、經濟、思想產生了那些影響?(10分)
2. 今年是中華民國建國100年。1912年2月10日，中華民國臨時參議院通過了清帝優待條例，2月12日清帝宣布退位。請問清帝優待條例八條中對退位的清帝有那些優待的規定?(10分)
3. 試就中國史前玉器文化中具高度藝術成就的紅山文化、良渚文化與卑南文化中擇一，並簡述其文化之分布地點、年代範圍、玉器種類、玉器題材、紋飾或與其它文化間的關係(7分)。
4. 就你所知的殷墟/三星堆文化(擇一說明)，就其物質文化之種類與特點簡要說明(6分)。
5. 宋代色釉瓷是中國歷史上的顛峰，其中更以五大窯聞名於世。試論五大窯有哪些?並試就其中一種瓷器簡述其特點與發展概況(7分)。
6. 請問下圖的器類分別是青銅器中的那一種形制?請在下列空格中填入其名稱與功能。(10分)

圖版						
名稱	方鼎					
功能	食器(炊食器)					